

# **Cours Initiation**

## **Leçon 5**

### **Ouverture de 2SA**

#### **Réaliser ses levées en défense**

# L'ouverture de 2 Sans-Atout

## *Conditions :*

- Vous avez une distribution régulière
- La force de votre main est entre 20 et 21 points
- Vous n'avez ni cinq cartes à Pique, ni cinq cartes à Cœur

**Alors, vous ouvrez de 2SA**

## *L'enchère est précise*

**Votre partenaire connaît votre force (20-21H) et le type de distribution de votre main**

# Attitude du répondant après une ouverture de 2SA

*La question que vous allez vous poser :*

**« Notre équipe peut-elle demander la manche et empocher la prime de 300 points ? »**

*Comment trouver la réponse ?*

- *Vous connaissez votre nombre de points*
- *Vous connaissez la fourchette de points de votre partenaire*

*Vous savez précisément dans quelle zone de points se trouve votre camp :*

**Le *plancher* et le *plafond***

# Réponse sur l'ouverture de 2SA

*Sur l'ouverture de 2SA de votre partenaire :*

- Si la force globale de votre camp est **supérieure ou égale à 25 points**, vous annoncez **3SA**
- Si la force de votre camp est **inférieure à 25 points**, vous **passez**

C'est la « **Table de décision** »

# Cours Initiation

## Leçon 5

### Réaliser ses levées en défense

# Contrat du déclarant - Contrat de la défense

## Le contrat du déclarant :

Faire au minimum le nombre de levées du contrat final

## Le contrat de la défense :

Empêcher le déclarant de faire ce minimum de levées

# Exercice

*Indiquer le nombre minimum de levées que doit faire chaque camp ?*

| <b>Contrat final<br/>décidé par le<br/>déclarant</b> | <b>Nombre de levées<br/>que doit faire le<br/>déclarant</b> | <b>Nombre de levées<br/>que doit faire la<br/>défense</b> |
|--|---|---|
| <b>1SA</b>   | <b>7</b>  | <b>7</b>  |
| <b>2SA</b>   | <b>8</b>  | <b>6</b>  |
| <b>3SA</b>   | <b>9</b>  | <b>5</b>  |
| <b>6SA</b>   | <b>12</b>   | <b>2</b>  |

# Exercice

*Combien de levées le déclarant va-t-il réaliser avec le jeu suivant ?*

|   |         |
|---|---------|
| ♠ | A D 3   |
| ♥ | A 5 3 2 |
| ♦ | R 6 2   |
| ♣ | 9 8 7   |
| N |         |
| O | E       |
| S |         |
| ♠ | R V 6 2 |
| ♥ | 6 4     |
| ♦ | A D V 3 |
| ♣ | D 10 3  |

**Contrat : 3SA joué par Sud**

- 4 à pique
- 1 à cœur
- 4 à carreau
- 0 à trèfle

**Entame : Roi de cœur**



# Problème de l'entame !

*Vous devez entamer avec cette main contre un contrat de 2SA*

|   |          |
|---|----------|
| ♠ | A 9 3    |
| ♥ | R 6 3    |
| ♦ | A R D 10 |
| ♣ | 10 9 4   |

*Quelle carte ???*

*Trois bonnes questions :*

- *Combien de levées mon camp doit-il réaliser?*
- *Combien avez-vous de cartes maîtresses ?*
- *Comment trouver les levées qui manquent ?*

# Problème de l'entame !





1. *Combien de levées mon camp doit-il réaliser?*
2. *Combien avez-vous de cartes maîtresses ?*
3. *Comment trouver les levées qui manquent ?*

*Faire des hypothèses et*

*...IMAGINER...*

# Problème de l'entame

votre main :

|   |         |
|---|---------|
|  | A 5 2   |
|  | R V 4 3 |
|  | V 9 5 2 |
|  | R 7     |

*Quelles cartes doivent se trouver dans la main de votre partenaire pour que votre camp possède :*

- 3 cartes maitresses à Pique      **Roi et Dame**
- 2 cartes maitresses à Cœur      **As**
- 4 cartes maitresses à Carreau      **As, Roi, Dame**
- 2 cartes maitresses à Trèfle      **As**

# L'observation des cartes du mort

*A la vue du mort, chaque joueur de la défense connaît 26 cartes. La moitié du jeu !*

*Certaines de vos cartes deviennent maîtresses.*

***Vous refaites immédiatement vos comptes et imaginer comment faire chuter le contrat.***

*Les deux partenaires en défense font les mêmes calculs*

|   |              |   |   |
|---|--------------|---|---|
| ♠ | A D 5 3      |   |   |
| ♥ | D 7          |   |   |
| ♦ | R            |   |   |
| ♣ | V 10 8 6 3 2 |   |   |
| ♠ | 10 6 4       | N |   |
| ♥ | A R V 2      | O | E |
| ♦ | A D 8 3      |   |   |
| ♣ | 9 7          | S |   |

Contrat des adversaires :  
3SA

*Combien de cartes  
maîtresses avez-vous avant  
d'entamer ?*

3

*Combien de cartes  
maîtresses avez-vous à la  
vue du mort :*

5

# Exercice

♠ 9 8 3  
♥ R V 10 4  
♦ A D 5 2  
♣ V 8

♠ A R D 10  
♥ A 5 2  
♦ 8 6 4 3  
♣ 10 7

|   |   |   |
|---|---|---|
|   | N |   |
| O |   | E |
|   | S |   |

Contrat des adversaires : 3SA

*Combien de cartes maîtresses avez-vous avant d'entamer ?*

4

*Combien de cartes maîtresses avez-vous à la vue du mort ?*

4

*Que faut-il pour faire chuter le contrat ?*

**Espérer le Valet de Pique chez votre partenaire ou 3<sup>ème</sup> dans la main de l'attaquant**

# Exercice

♠ 9 8 3  
♥ R V 10 4  
♦ A D 5 2  
♣ V 8

N  
O E  
S

♠ V 7 6  
♥ 9 7 3  
♦ R V  
♣ A R D 9 4

♠ A R D 10  
♥ A 5 2  
♦ 8 6 4 3  
♣ 10 7

♠ 5 4 2  
♥ D 8 6  
♦ 10 9 7  
♣ 6 5 3 2

Contrat des adversaires : 3SA

*Si l'attaquant jouait la première carte, ferait-il le nombre de levées de son contrat ?*

OUI, 5 à trèfle et 4 à carreau certaines et une à Cœur du fait de la position de l'As

*Si l'entame est autre que l'As de Pique, la défense réussirait-elle son contrat ?*

NON, car elle donnerait la main à l'attaquant qui ferait alors les 10 levées

### ***Le jeu de la défense :***

- Celui qui entame fait le compte de ses cartes maîtresses
- Imagine ce que doit avoir son partenaire et les répartitions des cartes
- Choisit son entame pour tenter de réaliser ses cartes maîtresses et trouver les levées manquantes.
- A la vue du mort, les deux partenaires de la défense recalculent le nombre de cartes maîtresses.

**La réussite du contrat est une course de vitesse  
entre la défense et le déclarant**



| Sud | Ouest | Nord | Est |
|-----|-------|------|-----|
|     |       | pas  | pas |
| 1SA | pas   | pas  | pas |

♠ D52

♥ V865

♦ DV

♣ 7543

♠ 74

♥ ARDX

♦ ARX9

♣ 962



♠ X983

♥ 932

♦ 8432

♣ V8

♠ ARV6

♥ 74

♦ 765

♣ ARDX

Entame : Roi de Trèfle

**Les enchères :**

Nord possède 6 points. Il passe

Est possède 1 point : il passe

Sud possède 17 points : il ouvre de 1SA

Nord calcule le plancher et le plafond du camp

Plancher :  $15 + 6 = 21$  pointsPlafond :  $17 + 6 = 23$  points

La force est insuffisante pour la manche : il passe

**L'entame:**

Ouest compte ses cartes maîtresses

➤ Trois à Cœur (As, Roi et Dame)

➤ Deux à Carreau As et Roi

**Il entame la tête de séquence de trois honneurs**Ouest découvre le Mort. **Combien de cartes maîtresses à la vue du Mort ?**

➤ Trois à Cœur (As, Roi et Dame) et quatre à Carreau As et Roi, 10 et 9

♠ X942

♥ 842

♦ X974

♣ DX

♠ V63

♥ VX97

♦ 65

♣ 6532

♠ 875

♥ AR5

♦ 832

♣ ARV9

♠ ARD

♥ D63

♦ ARDV

♣ 874

Entame : Valet de  
Cœur

| Sud | Ouest | Nord  | Est   |
|-----|-------|-------|-------|
| 2SA | passe | passe | passe |

**Les enchères :**

Sud possède 21 points : il ouvre de 2SA

Nord calcule le plancher et le plafond du camp

- Plancher :  $20 + 2 = 22$  points
- Plafond :  $21 + 2 = 23$  points

La force est insuffisante pour la manche : il passe

**L'entame:**

Ouest n'a aucune carte maîtresse

Il entame la tête de séquence à Cœur (Valet-10-9). Il espère que son partenaire possède des cartes maîtresses dans cette couleur

Les joueurs découvrent le Mort. **Combien de cartes maîtresses à la vue du Mort ?**

- Pour Ouest, toujours aucune
- Pour Est, deux à Cœur, 4 à Trèfle
- Est ne peut faire chuter le contrat seul. Il prend l'entame et joue les 4 cartes maîtresses à Trèfle ainsi que le Roi de Cœur
- Il sait que son partenaire possède le 10 de Cœur. Après avoir fait ses levées maîtresses, il rejouera Cœur

## Donne 3

Donneur : Est – celui qui a le 4 de Carreau


| Sud | Ouest | Nord | Est |
|-----|-------|------|-----|
|     |       |      | pas |
| 1SA | pas   | pas  | pas |

♠ V853

♥ V97

♦ DV72

♣ X4



♠ ARD

♥ 654

♦ AR9

♣ 7653

♠ X96

♥ 32

♦ X54

♣ RDV98

### *Les enchères :*

Est possède 6 points. Il passe

Sud possède 16 points : il ouvre de 1SA

Nord calcule le plancher et le plafond du camp

Plancher :  $15 + 5 = 20$  points

Plafond :  $17 + 5 = 22$  points

La force est insuffisante pour la manche : il passe

### *L'entame:*

Ouest compte ses cartes maîtresses

- Trois à Cœur (As, Roi et Dame)
- Une à Trèfle (As)

**Il entame la tête de séquence de trois honneurs**

Entame : As de Cœur

Ouest découvre le Mort. *Combien de cartes maîtresses à la vue du Mort ?*

- Cinq à Cœur (As, Roi, Dame puis Dix et 9) et toujours une à Trèfle. Ce qui est insuffisant pour faire chuter le déclarant
- Il doit imaginer quelle carte pourrait posséder son partenaire.
- C'est à Trèfle qu'il trouvera la chute

| Sud | Ouest | Nord  | Est   |
|-----|-------|-------|-------|
|     | passe | passe | passe |
| 1SA | passe | 3SA   | passe |

♠ RV42

♥ AD65

♦ 53

♣ 974



♠ AD7

♥ R83

♦ AR76

♣ V32

♠ X985

♥ VX97

♦ D92

♣ 65

**Les enchères :**

Ouest possède 10 points. Il passe

Nord possède 10 points. Il passe

Est possède 3 points. Il passe

Sud possède 17 points : il ouvre de 1SA

Nord calcule le plancher et le plafond du camp

Plancher :  $15 + 10 = 25$  points

Plafond :  $17 + 10 = 27$  points

La force est suffisante pour la manche : il annonce 3SA

**Entame : As de Cœur**

**L'entame:**

Ouest compte ses cartes maîtresses

➤ Trois à Trèfle (As, Roi et Dame)

**Il entame la tête de séquence de trois honneurs**

Ouest découvre le Mort. **Combien de cartes maîtresses à la vue du Mort ?**

- Toujours trois mais il peut espérer que son partenaire possède le Valet ou que celui-ci tombera avec ses cartes maîtresses.
- Si cela est le cas, il disposera de 5 levées et fera chuter le déclarant

***Exercice - Votre main :***

|   |         |
|---|---------|
| ♠ | 9 7 4 3 |
| ♥ | A D 2   |
| ♦ | R D V 5 |
| ♣ | A 4     |

***1/ Compter vos cartes maitresses :***

Pique :

Cœur :





Carreau :

Trèfle :

***2/ Déduire les cartes que doit avoir votre partenaire pour réaliser :***

- 3 levées à Cœur :
- 4 levées à Carreau :
- 2 levées à Trèfle :
- 2 levées à Pique :
- 4 levées à Cœur :

**Exercice - Votre main :**

|   |          |
|---|----------|
|  | A R D 10 |
|  | 9 8 4 2  |
|  | 7 3      |
|  | A D V    |

**1/ Compter vos cartes maitresses :**

**Pique :**

**Cœur :**

**Carreau :**

**Trèfle :**

**2/ Le déclarant joue un contrat à 1SA.**

**Pensez-vous pouvoir faire chuter son contrat ?**

**Comment ?**

**Que faut-il trouver chez votre partenaire pour que le contrat chute ?**

**Exercice - Votre main :**

**3 / Vous avez entamé du roi de pique.  
Vous découvrez la main du mort.**

**Refaites le compte de vos cartes maitresses :**

**Pique :**

**Cœur :**

**Carreau :**

**Trèfle :**

|   |           |
|---|-----------|
| ♠ | 9 8 4 3 2 |
| ♥ | A R V 7   |
| ♦ | R 8 7     |
| ♣ | R         |
| ♠ | A R D 10  |
| ♥ | 9 8 4 2   |
| ♦ | 7 3       |
| ♣ | A D V     |
|   | N         |
|   | O E       |
|   | S         |

**Le déclarant joue toujours le contrat à 1SA.**

**Pensez-vous pouvoir faire chuter son contrat ?**

**Comment ?**

**Que faut-il trouver chez votre partenaire pour que le contrat chute ?**

**Exercice - Votre main :**

|   |         |
|---|---------|
| ♠ | 9 7 4 3 |
| ♥ | A D 2   |
| ♦ | R D V 5 |
| ♣ | A 4     |

**1/ Compter vos cartes maitresses :**

Pique : 0      Cœur : 1      Carreau : 0      Trèfle : 1 = 2

**2/ Déduire les cartes que doit avoir votre partenaire pour réaliser :**

- 3 levées à Cœur : Roi et une petite carte
- 4 levées à Carreau : As et une petite carte
- 2 levées à Trèfle : Roi et une petite carte
- 2 levées à Pique : As et Roi
- 4 levées à Cœur : Roi, valet et deux petites cartes



*Exercice - Votre main en Ouest :*

|   |          |
|---|----------|
| ♠ | A R D 10 |
| ♥ | 9 8 4 2  |
| ♦ | 7 3      |
| ♣ | A D V    |

*1/ Compter vos cartes maîtresses :*

Pique : 3            Cœur : 0            Carreau : 0            Trèfle : 1 = 4

*2/ Le déclarant joue un contrat à 1SA.*

*Pensez-vous pouvoir faire chuter son contrat ?*

*Comment ?*

*Que faut-il trouver chez votre partenaire pour que le contrat chute ?*

Il manque 3 cartes maîtresses pour réaliser sûrement 7 levées.

- Le **valet de pique**, s'il est dans la main de votre partenaire ou s'il est 3<sup>ème</sup> dans une main, permettant d'élever le 10 de trèfle en carte maîtresse
- Le **roi de trèfle** pourrait être capturé s'il est en Sud ou s'il est seul (singleton), permettant ainsi de rendre la promotion de la dame et du valet en carte maîtresse.

On a potentiellement **3 levées supplémentaires** dont la réalisation dépendra de la répartition des cartes.

*Exercice - Votre main :*

*3 / Vous avez entamé du roi de pique.  
Vous découvrez la main du mort.*

*Refaites le compte de vos cartes maitresses :*

Pique : 3                                      Cœur : 0  
Carreau : 0                                      Trèfle : 3

Soit 6 levées

|            |                          |
|------------|--------------------------|
|            | ♠ 9 8 4 3 2              |
|            | ♥ A R V 7                |
|            | ♦ R 8 7                  |
|            | ♣ R                      |
| ♠ A R D 10 | N                        |
| ♥ 9 8 4 2  | O                      E |
| ♦ 7 3      |                          |
| ♣ A D V    | S                        |

*Le déclarant joue toujours le contrat à 1SA.*

*Pensez-vous pouvoir faire chuter son contrat ?*

*Comment ?*

*Que faut-il trouver chez votre partenaire pour que le contrat chute ?*

**Vous avez 6 levées réalisables**, il ne vous en manque plus qu'une.

Pour réussir votre contrat de défense, vous devez trouver le **valet de pique** chez votre partenaire ou le **valet au maximum 3<sup>ème</sup>** dans la main du déclarant.

Vous allez donc **poursuivre de deux tours de pique** et surveiller attentivement les cartes jouées.